


基本問題

- ① 名古屋市を中心に、愛知・岐阜・三重県に広がる工業地帯を何というか。
- ② 静岡県太平洋岸に発達した工業地域を何というか。
- ③ 愛知県の知多半島や渥美半島で盛んな、ビニールハウスなどを使い、キャベツなどの野菜や花などを栽培する農業を何というか。
- ④ 中央高地など、標高の高い高原地帯で夏のすずしい気候を利用して栽培される野菜を何というか。
- ⑤ 福井県鯖江市のメガネのフレームや富山の製菓や売薬といった、古くからその土地の特性を生かして発達した産業を何というか。
- ⑥ 石川県の伝統的工芸品であるものを、次の【 】の中からすべて選んで書きなさい。
【 有田焼 九谷焼 加賀友禅 西陣織 輪島塗 南部鉄器 】
- ⑦ 福井県の越前岬から京都府の丹後半島の経ヶ岬までつづく海岸のように、複雑に入り組んだ海岸線は何とよばれるか。

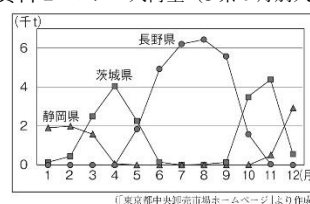
①	②	③	④
⑤	⑥	⑦	

発展問題

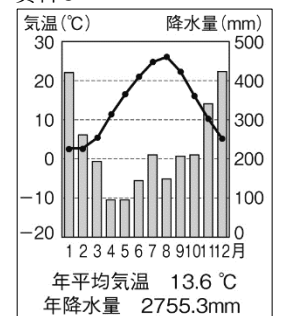
資料1



資料2 レタス入荷量 (3県の月別入荷量)



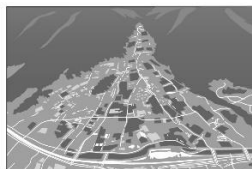
資料3



資料4 新潟県で産出される米

コシヒカリ 新之助
こしいぶき こがねもち など

資料5



- ① 資料1中のI～IIIの中で、中京工業地帯であるものを選んで書きなさい。
- ② 資料2から分かる、長野県のレタスの出荷時期の特徴を書きなさい。
- ③ 長野県の出荷時期が他の県と違う特徴が生まれる理由を、「冷涼」、「抑制栽培」の語句を使って書きなさい。
- ④ 北陸地方で伝統産業が発達した理由を、資料3を参考にして書きなさい。
- ⑤ 資料4のような、銘柄米の中でも食味が優れていたり、特別栽培などほかと差別化できる特徴があったりして付加価値のついた米を何というか。
- ⑥ 資料5のような、下線が山地から平野へ出るところにできた扇形の地形を何というか。また、このような地形の場所では、どのような土地利用がなされるか、簡単に書きなさい。

①	②
③	
④	⑤
⑥	地形 利用